

A XXII. LESS NÁNDOR ORSZÁGOS

FÖLDRAJZVERSENY

ELSŐ FORDULÓJÁNAK FELADATLAPJA

III. KATEGÓRIA

Tudnivalók

- A feladatokat figyelmesen olvasd el!
- A megoldásokat a mellékelt értékelőlapon kell beadni.
- Az értékelőlapon az adatokat olvashatóan, NYOMTATOTT NAGYBETŰVEL töltsd ki!
- A feladatlapon javíthatsz, az értékelőlapon már NEM! A javított megoldásokat akkor sem fogadjuk el, ha jók!
- Tollal írd!
- Segédeszköz NEM használható!
- Az elérhető pontszám: 100 pont

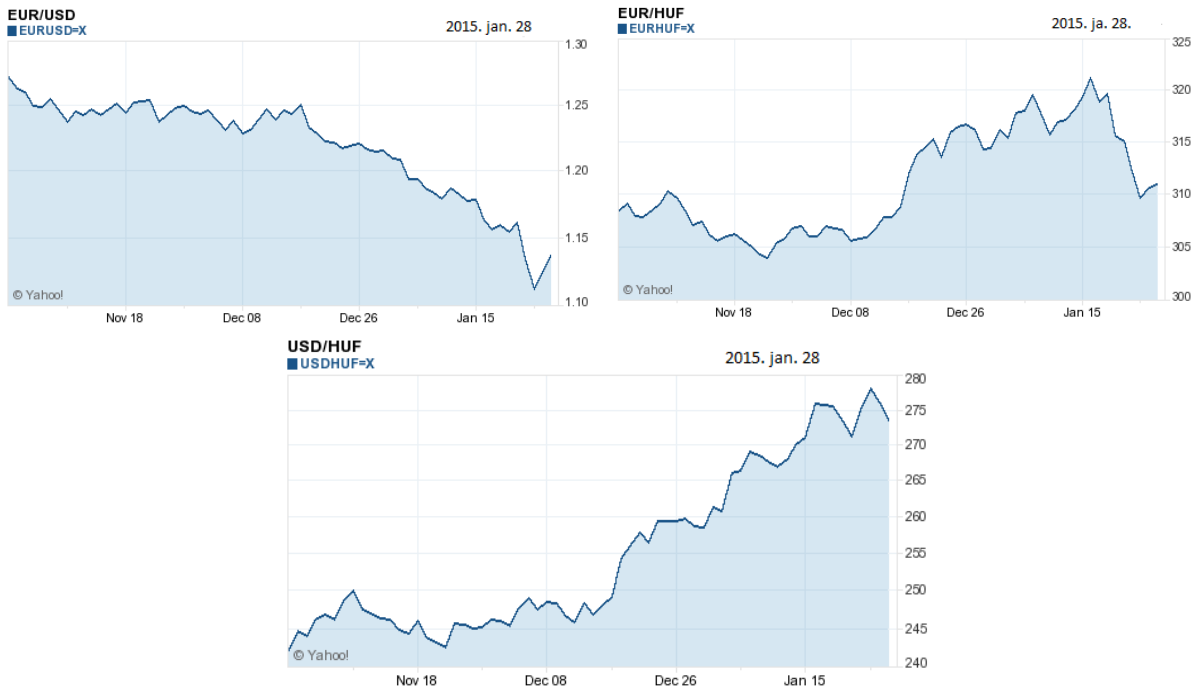
Jó munkát!



Less Nándor

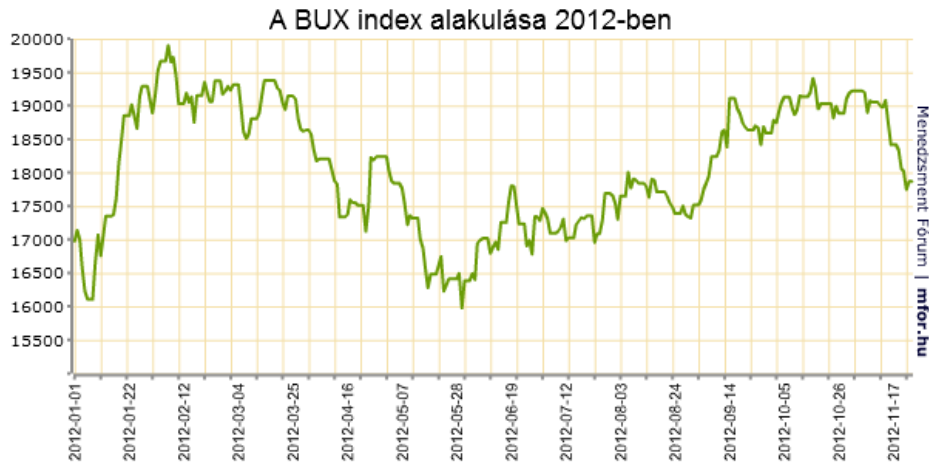
2015. március 9.

I. A valuta árfolyamokat bemutató ábrák segítségével dönts el, igazak-e az állítások! Az igaz állításokat jelöld „A”, a hamis állításokat nagy „B” betűvel! 9 pont



Forrás: deviza.hu

1. ___ A forint december végétől egyaránt erősödött az euróval és dollárral szemben.
2. ___ December végétől a dollár folyamatosan gyengül az euróval szemben.
3. ___ Németországban dolgozó magyar vendégmunkás november 6-án kapott fizetésével november 23-24-án hazalátogat, és elkeseredett, mert pénzéért kevesebb Ft-ot kap, mint november 6-án.
4. ___ Pénzes János euróval nyitott devizaszámlájáról október végén dollárt vásárolt tervezett januári amerikai útjához. Kiutazása előtt megdöbbenve tapasztalta, hogy eurójáért több dollárt kapott volna, ha a kiutazásakor váltott volna dollárt.
5. ___ Az októberben betakarított magyar kukorica januári dollár elszámolású exportja szerencsésebb az exportőröknek, mintha december eleji időszakban történt volna.
6. ___ Hazánkba januárban dollár elszámolású import banán ára magasabb lesz az októberben importált szállítmányokhoz képest.
7. ___ Ausztriai magyar vendégmunkás fizetéséből megtakarított pénzéből október 22-én befektetői tanácsra amerikai dollárt vásárol és január közepén szomorúan tapasztalta, hogy pénze kevesebbet ér.
8. ___ Január közepén kevesebbet ér az amerikai turisták pénze az EU euró övezetében, mint az előző év végén.



Forrás: <http://www.mfor.hu>

9. ___ 2012. májusában érdemes volt részvényt vásárolni.

II. Mely fogalmakat ismered fel a meghatározások és képek alapján? Írd a fogalmakat a pontozott vonalra! 4 pont

1. Nemzetközi elszámolásokra szolgáló eszköz, valutára szóló követelést vagy tartozást jelent

.....

2. Kereskedelmi politikának az a típusa, amikor külföldön olcsóbban értékesítik a termékeket, mint a hazai piacon.

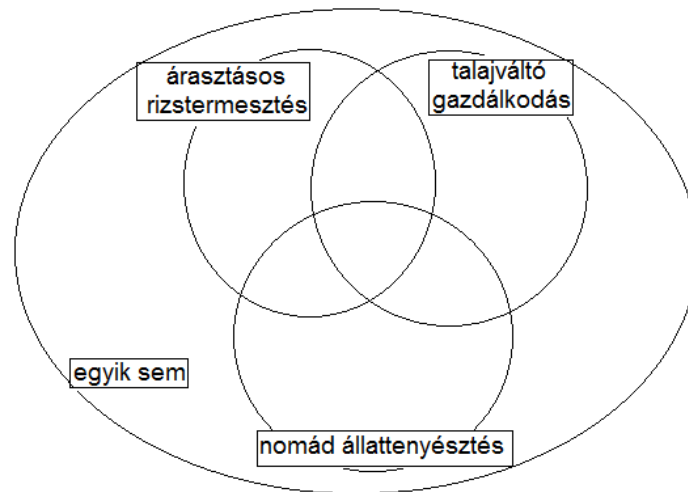


Forrás: <http://www.debate.org/>

3. Mely fogalom ismerhető fel a képről? Határozd meg a felismert fogalmat!

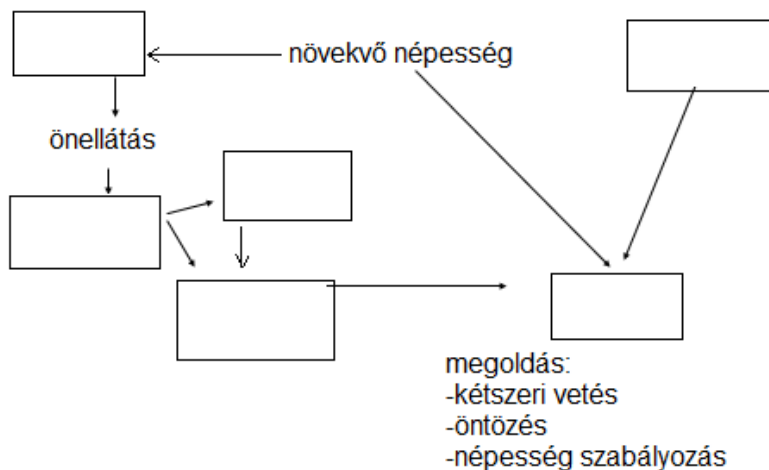
.....

III. Írd az ábra alatti állítások sorszámát a halmazábra megfelelő helyére! 9. pont



1. Afrikai kontinensre jellemző.
2. Az Óvilág száraz területein folytatják ezt a gazdálkodást.
3. Hagyományos mezőgazdasági termelési típus.
4. Ázsiában a felföldi területekre szorult vissza.
5. Nyári monszun uralma alatt lévő területek folyópartjain a leggyakoribb.
6. Latin-Amerikában az indián közösségek által lakott területeken a legjellemzőbb.
7. Korszerű, belterjes gazdálkodást folytatnak területén.
8. Elsősorban önellátásra, termelnek.
9. Monokultúrás gazdálkodást folytatnak.

IV. Az India mezőgazdasága. Ismerd fel az összefüggések egyes elemeit a számozott állítások segítségével! Írd az állításokat az ábra megfelelő helyére! 13 pont



1. felaprózódó földek
2. élelmiszerimport
3. tőkehiány
4. analfabétizmus
5. szeszélyes monszun
6. alacsony technikai színvonal

A csapadék eloszlásnak megfelelően írd a számozott állításokat a táblázat megfelelő helyére!

1. Hindusztáni –alföld, 2. juta, 3. köles, 4. Dekkán fennsík, 5. magas népsűrűség, 6. gyapot

Nedves India	Száraz India

7. Melyik táblázatban szereplő növények termelésében világszerte India?

.....

V. Többszörös választás

Útmutató: Egy állításhoz öt válaszlehetőség tartozik. Az állítás nem csak egy válaszra vonatkozhat, hanem többre is az alábbi variációk szerint. A helyes válasz nagybetűjét a kérdések előtti vonalra írd!

- A, 1.2.3.válasz igaz
- B, 1.3. válasz igaz
- C, 2.4. válasz igaz
- D, csak a 4. válasz igaz
- E, mindegyik válasz igaz

1. ___ Államformája alkotmányos monarchia
 1. Norvégia
 2. Hollandia
 3. Spanyolország
 4. Finnország
2. ___ Piacgazdasági körülmények között nő az ár, ha:
 1. Ha a kínálat nő
 2. Kereslet nő
 3. Kereslet csökken
 4. Kínálat csökken
3. ___ Állam feladata a piacgazdaságban
 1. Össztársadalmi érdekek képviselete
 2. Tökéletes piaci verseny fenntartása
 3. Belső közrend fenntartása
 4. Monopolhatalom megteremtése
4. ___ Melyek a legfontosabb mutatói a gazdasági növekedésnek?
 1. Analfabéták aránya
 2. GNI értéke
 3. Várható élettartam
 4. GDP értéke
5. ___ A világbank közepes jövedelemszintű országainak magasabb jövedelemcsoportú országaihoz tartozik
 1. Dánia
 2. Ukrajna
 3. India
 4. Magyarország

6. ___ Mit értünk a komparatív előnyökön nyugvó kereskedelempolitikán?
 1. Ha az alacsonyabb gazdasági fejlettségű országok olcsó munkaerőt igénylő ágazatok termékeit állítják elő és exportálják
 2. Ha a magasabb gazdasági fejlettségű országok a képzett munkaerőt, K+F tevékenységet igénylő ágazatok termékeit állítják elő és exportálják
 3. Az egyes országok arra a termékre specializálódnak, amelyek előállításában a legtermékenyebbek
 4. Ha a termékeket az egyes országok egymás piacán olcsóbban értékesítik, mint a saját piacukon
7. ___ A nemzetközi kereskedelem áruszerkezetét jellemzi
 1. Mezőgazdasági termékek és élelmiszerek részesedése nő
 2. Gépek közül a legmagasabb technológiai szintet képviselő termékek kerültek előtérbe
 3. Feldolgozatlan termékek, nyersanyagok részesedése folyamatosan nő
 4. Gyáriparon belül a gépipari termékek kereskedelme növekszik
8. ___ Mi jellemzi a transznacionális vállalatokat?
 1. Székhelyük egy országban található, számos leányvállalatuk van
 2. Ellenőrzési joguk több nemzetgazdaságra terjed ki
 3. Megjelenésükkel globalizálódott a világgazdaság
 4. Költségmaximalizálásra és profitminimalizálásra törekednek
9. ___ A világ off-shore területei
 1. Karib (Közép-amerikai) szigetvilág
 2. Csendes-óceáni szigetvilág
 3. Európa törpeállamai
 4. USA
10. ___ A Gazdasági Együttműködési és Fejlesztési Szervezet
 1. OECD
 2. 1971-ben alapították
 3. Tagjainak zöme gazdaságilag fejlett ország
 4. Székhelye Róma

VI. Az euro.

Írd a válaszaidat a kérdés alatti pontozott vonalra. 5 pont



1. Mit jelent az EMU rövidítés, mikor alakult meg?
.....
2. Mikortól vannak készpénzként forgalomban euró bankjegyek és pénzérmék?
.....
3. Hány tagja van az euro zónának?
.....
4. Melyik ország lépett be 2015. januárban az euro övezetbe?
.....

5. ___ Melyik konvergencia kritérium hibás? Válaszd ki a helyes megoldást, és írd a betűjelét a kérdés előtti vonalra!
- A. Költségvetési hiány nem lehet több 5%-nál.
 - B. Vizsgált tagország inflációs mutatója nem haladhatja meg 1,5%-al jobban a három legalacsonyabb inflációval rendelkező ország átlagát.
 - C. Vizsgált tagország kamatai legfeljebb 2%-al haladhatják meg a három legalacsonyabb inflációs ország kamatátlagát.
 - D. Bruttó államadósság nem haladhatja meg a GDP 60%-át.

VII. Állítsd sorrendet a világ legnépesebb és legnagyobb gazdaságai között! Írd a sorrend számát az ország alatti négyzetbe! Kizárólag a helyes sorrendért jár 2-2 pont!

Gazdaság

Németország

Kína

USA

Japán

Népeség

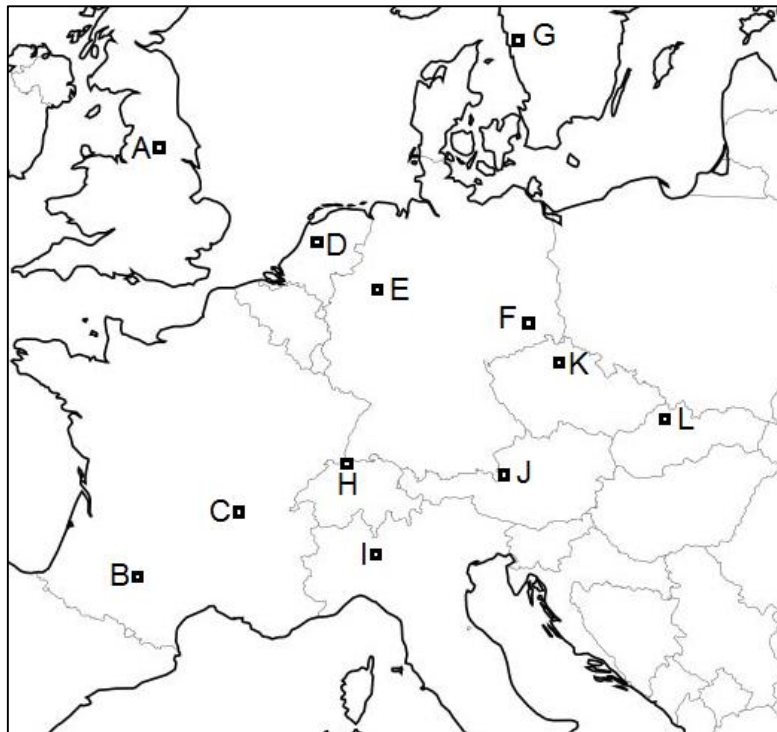
India

USA

Kína

Indonézia

VIII. A rövid jellemzések, ismertetőik alapján ismerd fel az adott várost! Írd a város betűjelét és a város nevét az ismertető utáni vonalra! 10 pont

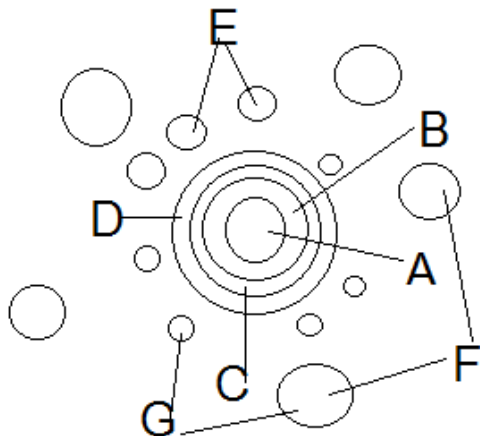


1. Mikroelektronikai, biotechnológiai központ, egykori szász királyok székhelye.....
2. Európa legnagyobb policentrikus agglomerációjának része, 2014-ig Opel

- gépkocsigyár működött a városban.....
3. Pénzügyi (ABN-AMRO, ING), kereskedelmi központ, világhírű gyémántcsiszoló műhelyekkel.
.....
 4. Város a Pennine szélárnyékos lábánál, egykori gyapjúfeldolgozó központ, ma az ország egyik legnagyobb pénzügyi központja.
.....
 5. Az európai repülőgépgyártás legnagyobb központja, az Airbusok összeszerelését végzik.
.....
 6. Rajna parti város, a Novartis gyógyszeripari cég székhelye.
.....
 7. „Sóvár”, Mozart szülővárosa, és az északi mézskő Alpok idegenforgalmi központja.
.....
 8. 2014-ben a világ legnagyobb autógyártó vállalatának a leányvállalata működik a városban.
.....
 9. Zöldmezős beruhásként a Kia itt építette fel európai autógyárát.
.....
 10. A világhírű Volvo járművek, SKF golyóscsapágyai itt készülnek.
.....

IX. Milyen településformáció ismerhető fel az ábrán? A választ írd a pontozott vonalra! 7 pont

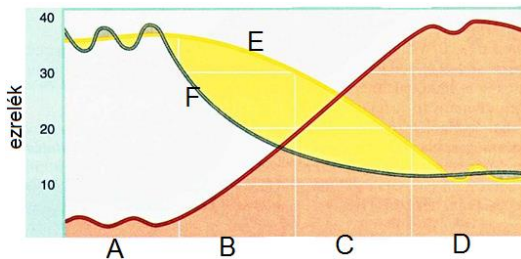
1.



Az modell tanulmányozása után válaszolj az ábra betűjeleivel! A helyes válasz betűjelét a kérdések előtti vonalra írd!

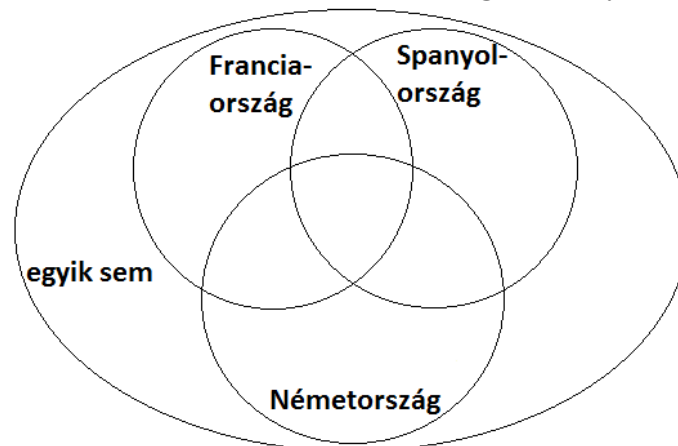
2. ___ Közigazgatási, pénzügyi, kereskedelmi, kulturális intézmények, irodák, elegáns szállodák, magas beépítés jellemzi.
3. ___ Bolygóváros.
4. ___ Elővárosi övezet.
5. ___ USA nagyvárosinak slumos területe.
6. ___ Nappal szinte üres, késő délutántól megélénkül az élet.
7. ___ Tehermentesítik a központi (mag) várost.

X. Az ábra grafikonjainak tanulmányozása után válaszolj a számozott kérdésekre az ábra betűjeleivel! A helyes válasz betűjelét a kérdések előtti vonalra írd! 8 pont



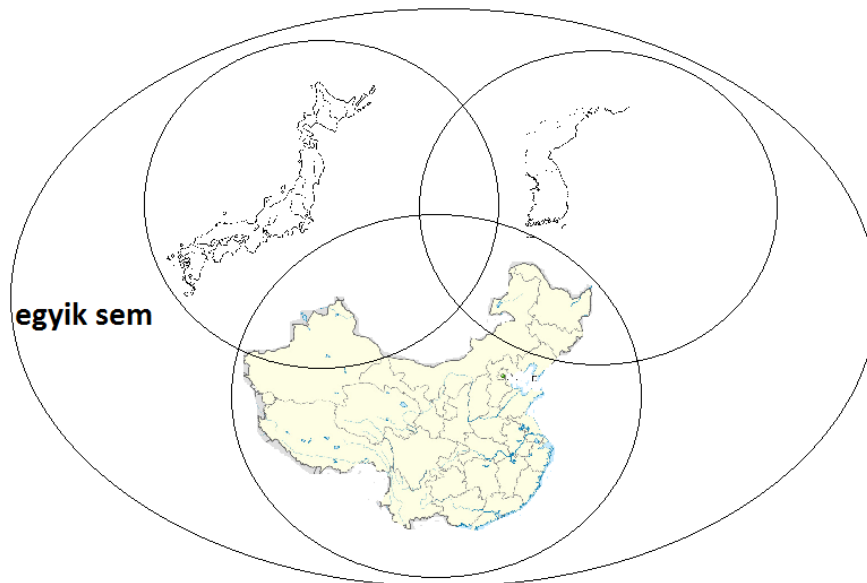
1. ___ A fejlett európai országokban 1780 és 1880 között végbemenő népesedési folyamat.
2. ___ Ez jellemezte a gazdasági perifériára szorult országok népesedését a 20.század közepén.
3. ___ A kínai társadalom napjainkban már ebben a demográfiai szakaszban tart.
4. ___ E népesedési folyamatra jellemző korfa, harang alakú.
5. ___ Napjainkban egyik országra sem jellemző a népesedés e formája.
6. ___ A népességszám stagnál, a magas élveszületés és magas halálozás következtében.
7. ___ Az ide tartozó társadalom korfája urna/múmia formájú.
8. ___ A legtöbb magas jövedelmű európai országot jellemzi e demográfiai szakasz.

XI. Írd az ábra alatti állítások sorszámát a halmazábra megfelelő helyére! 10 pont



1. Fizetőeszköze az euró.
2. Szénhidrogén-bányászata jelentős.
3. Az elektromos energia termelésének több mint 70%-át az atomerőművek biztosítják.
4. 2014-ben elektromos-energia termelésének több mint 40%-át megújuló energiahordozókból nyeri.
5. Területén mediterrán gazdálkodással is találkozhatunk.
6. Idegenforgalmi beruházásai túllépték a valós piaci igényeket, amely részben a 2009-es gazdasági válság elmélyülését okozta.
7. Területén található a Baszkföld.
8. Az EU legnagyobb élelmiszer-exportőre.
9. Európa első három bortermelői közé tartozik.
10. Az Európai Unió egykori alapító tagja.

XII. A halmazábra egy-egy ország kontúr térképét rejti magában. Az ábra alatt az országokra jellemző állításokat találász, amelyek számát írd az ország vaktérképét magába foglaló halmazábra megfelelő helyére! 11 pont



1. Világbank kategorizálása alapján magas jövedelmű országok.
2. Népeségkoncentrációja ipari alapú.
3. APEC tagállam.
4. Gazdasági növekedés üteme 7-8% közötti.
5. Területén döntően buddhista vallás a jellemző.
6. A TRIÁD tagja.
7. OECD tagállama.
8. Vállalatai nem szerepelnek a Global 500 listán.
9. Gazdaságuk erőteljesen export orientált.
10. Az 1984-ben 11 mérnök által alapított cég ma a világ vezető személyi számítógépgyártó cége: a Lenovo.
11. A világ egyik legnagyobb hajógyártó nemzete, az ENSZ főtitkár szülőhazája.