

# A XXI. LESS NÁNDOR ORSZÁGOS

## FÖLDRAJZVERSENY

### ELSŐ FORDULÓJÁNAK FELADATLAPJA

#### III. KATEGÓRIA

##### Tudnivalók

- A feladatokat figyelmesen olvasd el!
- A megoldásokat a mellékelt értékelőlapon kell beadni.
- Az értékelőlapon az adatokat olvashatóan, NYOMTATOTT NAGYBETŰVEL töltsd ki!
- A feladatlapon javíthatsz, az értékelőlapon már NEM! A javított megoldásokat akkor sem fogadjuk el, ha jók!
- Tollal írd!
- Segédeszköz NEM használható!
- Az elérhető pontszám: 100 pont

Jó munkát!

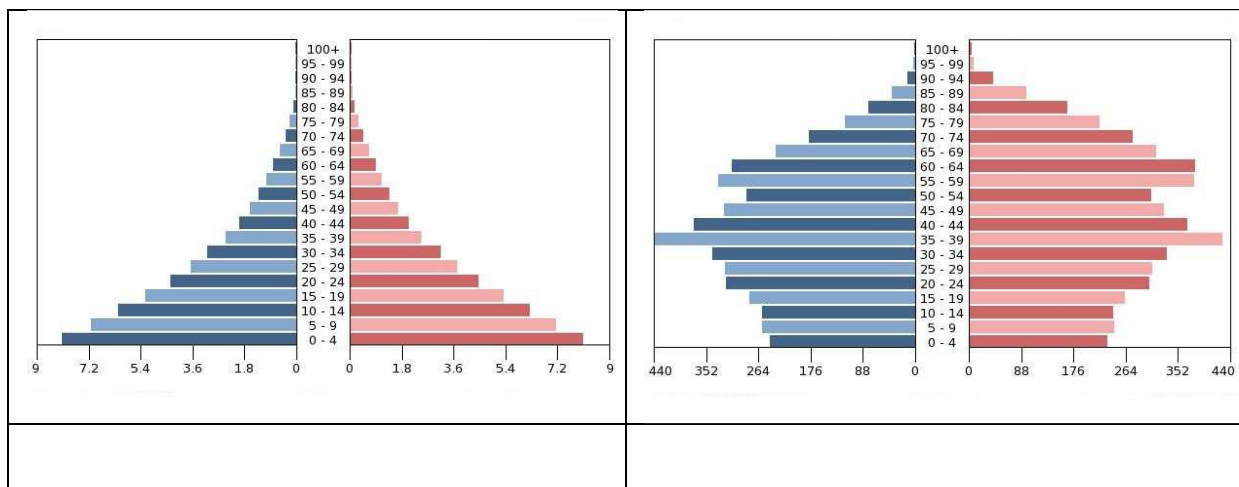


Less Nándor

Miskolc

2014. március 10.

**I. Az alábbiakban két 5 éves gyerek jövőjét kell összehasonlítani. Írd az állítás számát az adott gyerek országának népességét jellemző korfa alá!**



1. Etiópiában él.
2. Magyarországon él.
3. 62 éves korában lesz nagymama.
4. 11 évesen kap először szexuális felvilágosítást az iskolában. 16 évesen még iskolába jár. Most van először igazi fiúbarátja. Tudja, hogyan védekezzen a terhesség és az AIDS ellen.
5. Van egy idősebb fiútestvére. 8 évesen a 3. osztályba megy, délutánonként a barátnőivel játszik. Hetente kétszer különórára jár és rendszeresen sportol.
6. Öt testvére van, 8 évesen abbahagyja az iskolát, mert vizet kell hordania, tűzifát gyűjtenie és gondoskodni a kisebb testvéreiről.
7. 11 éves, amikor apja meghal AIDS-ben. 16 évesen férjhez megy egy olyan férfihoz, amelyet az anyja keresett neki. megszületik első gyereke, a családtervezésről alig tud valamit.
8. 19 évesen már 2 gyermeke van. 29 éves, amikor 4. gyermekét várja. Komplikációk lépnek fel, a gyermek meghal szülés közben.
9. 36 évesen szüli 2. gyermekét, amikor a kisebbik gyerek elkezd óvodába járni, visszamegy dolgozni.
10. Az 5. gyermeke születésekor 35 évesen tudja meg, hol kaphat ingyenes fogamzásgátló szereket. Nem lesz több gyermeke.
11. Egyetemi tanulmányait 19 évesen kezdi meg, 24 évesen fejezi be, azóta dolgozik. 29 évesen megy férjhez.
12. 36 évesen szüli 2. gyermekét, amikor a kisebbik gyerek elkezd óvodába járni, visszamegy dolgozni.
13. 38 évesen már 4 unokája van.
14. Várhatóan 64 éves korában meghal.
15. Várhatóan 80 évig fog élni.

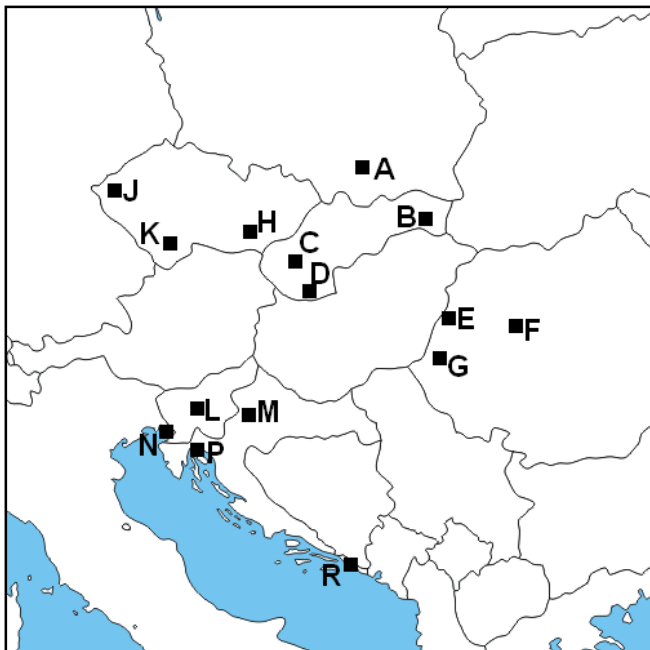
**15 pont**

**II. Állítsd területük szerinti csökkenő sorrendbe a kontinenseket! Írd a sorrend számát a kontinens alatti négyzetbe! Kizárólag a helyes sorrendért jár 2 pont!**

Ázsia	Afrika	Észak-Amerika	Közép- és Dél-Amerika	Európa
<input type="text"/>	<input type="text"/>	<input type="text"/>	<input type="text"/>	<input type="text"/>

**2 pont**

**III. A rövid jellemzések, ismertetők alapján ismerd fel az adott várost! Írd a város betűjelét és a város nevét az ismertető utáni vonalra!**



1. Szlovákia második híd- és kikötővárosa.....
2. A Morva-medence ismert vásárvárosa.....
3. A Kis-Szamos partján fekvő kulturális központ, „Erdély fővárosa”.....
4. A város közelében lévő hegység előterében barnakőszén bányásznak, a város turisztikai vonzereje a filmfesztivál és a fürdő.....
5. A Sebes-Körös partján épült.  
.....
6. A Cseh-Morva-dombság és a Sumava közötti város, ceruzagyártásának nagy hagyományai vannak.....
7. Adriai üdülöhely Horvátországban, közel Montenegróhoz.....
8. A város folyója Szegednél éri el a Tiszát.....
9. A Nyugati-Beszékédek északi lábánál

- fekvő város, szépsége miatt sok turista látogatja.....
10. Horvátország közigazgatási központja.....
  11. Száva parti főváros, lakói euróval fizetnek.....
  12. Kelet-Szlovákia gazdasági központja, dómjában van eltemetve II. Rákóczi Ferenc.....
  13. Ide települt a Peugeot autógyár egyik leányvállalata.....
  14. A Karszt-hegységtől délre fekvő kikötőváros.....
  15. Az Isztriai-félszigettől északra fekvő olasz kikötőváros.....

**30 pont**

**IV. Mely régiókra, övezetekre jellemzőek az állítások?**

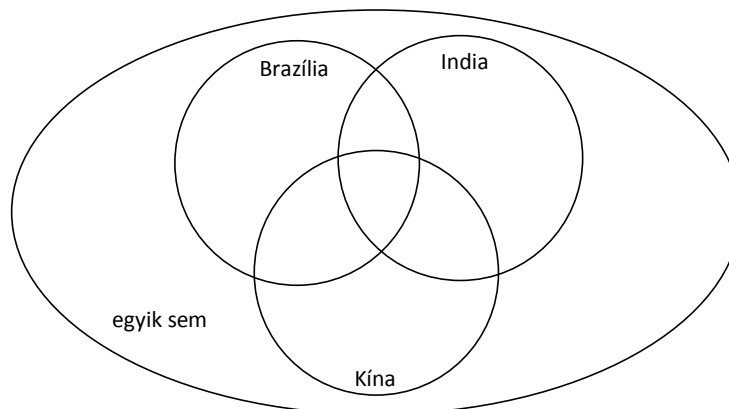
- A. Az USA első ipari övezete
- B. Szilícium-völgy
- C. Napfényövezet
- D. Boswash
- E. egyik sem

1. Autóipara válságban van, autógyártásáról ismert nagyvárosából tömegesen vándorol el a munkaerő.
2. Itt található az Apple, a Google, a Yahoo, a Facebook, a LinkedIn központja is. Az itt dolgozó mérnökök és tudósok közel 1/3-a angolul kiválóan beszélő indiai.
3. Híres egyeteme a Yale, a Harvard, a Columbia, a MIT.
4. A 2000-es évek elején autóiparába fektetett tőke néhány év alatt a többszörösére nőtt.
5. Az 1960-as évek polgárjogi mozgalmi kivívták az afroamerikaiak egyenlőségét, gazdasága egyre látványos sikereket ért el.
6. Létrehozásának gondolata egy garázsban született meg Palo Alto-ban.
7. Az itteni lakásárak a legmagasabbak közé tartoznak az országban a jól fizető munkahelyek miatt.
8. „Rozsadaövezetnek” is nevezik.
9. Északi nagyvárosa a világ legfontosabb szoftverfejlesztő (Microsoft) és repülőgépgyártó (Boeing) fellegvára.

10. Az 1960-as évektől egyre több külföldi működő tőke áramlott ide, mert alacsonyabbak voltak a munkabérek, nem voltak erősek a szakszervezetek, kisebbek voltak a megélhetési költségek és az önkormányzatok egymással versenyezve adtak kedvezményeket a befektetőknek.

**10 pont**

**V. Írd a megfelelő halmazba az alábbi állítások számát!**



1. Az 1991-es reformok óta a megtakarítások jelentősen megnövekedtek, az állami hivatalokban javítottak a munkafegyelmen (pontos munkakezdés, ellenőrzés). A gazdasági eredmények már érezhetők, 1/3-ról 22–24%-ra csökkent a nyomorszint alatt élők (0,4 USD/fő naponta) aránya.
2. A BRICS-országok csoportjába tartozik.
3. Földünk ötödik legnagyobb területű és népességű állama
4. Gazdasági növekedése a leggyorsabb volt a világon az elmúlt harminc évben.
5. Területe kb. negyede kontinense területének.
6. Autóipara a hatodik legnagyobb a világon, előrejelzések szerint 2015-ben már évente 5 millió darabot, 2020-ban pedig 9 millió autónál is többet fog eladni.
7. 2013-ban a világ legnagyobb szarvasmarha-állományával rendelkezett.
8. Területén átmegy a Ráktérítő.
9. Ősmasszívum is van a területén.
10. Sivatag is van ebben az országban.
11. Anglia legértékesebb gyarmata volt 1947-ig.
12. Gazdaságában ma is mezőgazdaságé a döntő szerep, az agrárfoglalkozásúak aránya még mindig meghaladja az 50%-ot, akiknek a 2/3-a nő és 14 év alatti leánygyermek.
13. Míg 1960-ban a lakosság fele sem élt városokban, addig napjainkban már több mint 87 százalékuk város lakó.
14. 1985-ben még 89 leány jutott 100 fiú újszülöttre, 2010-ben csak 85. 2020-ra már 30 millió olyan házasulandó korban lévő férfi lesz, akinek nem jut pár.
15. Részt vesz a G20 országok tanácskozásain.

**15 pont**



**VII. Döntsd el, hogy mely csoportra vonatkoznak az állítások!**

- A. aktív keresők
- B. inaktív népesség
- C. eltartottak
- D. munkavállaló korúak
- E. munkanélküliek

1. A gazdasági élet valamely területén dolgozók, akik munkahellyel rendelkeznek.
2. Általában a 15-65 éves korosztályt soroljuk ide.
3. Munkával nem rendelkező munkavállaló korú személyek.
4. Ide tartoznak a rendszeres jövedelemmel rendelkező, de nem dolgozó, kisgyermeküket nevelő anyák.
5. Ide tartoznak a saját jövedelemmel nem rendelkező tanulók.

**5 pont****VIII. Ebben a feladatban a nemzetközi szervezetek és az állítások között kell kapcsolatot találni.**

- A. APEC
- B. NAFTA
- C. EFTA
- D. UNESCO
- E. IMF

1. 1944-ben alapították az egyesült államokbeli Bretton Woods-ban.
2. Tagjai: USA, Kanada és Mexikó.
3. Európai együttműködés az ipari termékek kereskedelmére.
4. Ázsiai-csendes-óceáni Gazdasági Konferencia.
5. Az ENSZ Nevelésügyi, Tudományos és Kulturális Szervezete, tevékenységei közül kiemelkedik a fejlődő országok oktatási és képzési tevékenységének támogatása, fejlesztése.

**5 pont****IX. Ismerd fel a telepítő tényezők jelentőségét! Az alábbi szemelvény alapján oldd meg a feladatot! Írd a telepítő tényezőtípus után a telepítő tényező számát!**

*A „kemény” telepítő tényezők közé azokat az adottságokat, előnyöket soroljuk, amelyek mérhetők, számokban kifejezhetők.*

*A „puha” telepítő tényezők hatását közvetlenül nem lehet mérni, ezért nem lehet megállapítani, hogy jelentősége közvetlenül mennyire járul hozzá a vállalat nyereségéhez, azonban mégis egyre nagyobb szerepet kapnak.*

„Puha” telepítő tényező	
„Kemény” telepítő tényező	

1. Színvonalas oktatás.
2. Telekárak, ingatlanárak, a raktározás és a későbbi bővítés, terjeszkedés lehetősége.
3. A szabadidő színvonalas eltöltésének lehetősége, a kulturális kínálat (uszoda, golfpálya, szabadidőpark, étterem, mozi, színház) vagy a bevásárlási lehetőség.
4. Környezetvédelmi kiadások.
5. Adók.

**5 pont**