

**A XXI. LESS NÁNDOR ORSZÁGOS  
FÖLDRAJZVERSENY  
ELSŐ FORDULÓJÁNAK FELADATLAPJA**

**I. KATEGÓRIA**

Tudnivalók

- A feladatokat figyelmesen olvasd el!
- A megoldásokat a mellékelt értékelőlapon kell beadni.
- Az értékelőlapon az adatokat olvashatóan, **NYOMTATOTT NAGYBETŰVEL** töltsd ki!
- A feladatlapon javíthatsz, az értékelőlapon már **NEM!** A javított megoldásokat akkor sem fogadjuk el, ha jók!
- Tollal írd!
- Segédeszköz **NEM** használható!
- Az elérhető pontszám: 100 pont

Jó munkát!

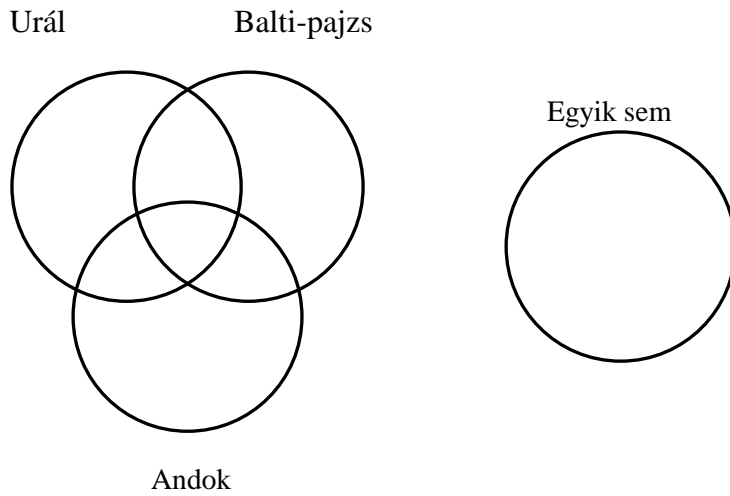


Less Nándor

Miskolc

2014. március 10.

**I. Írd a megfelelő halmazba az állítások számát!**

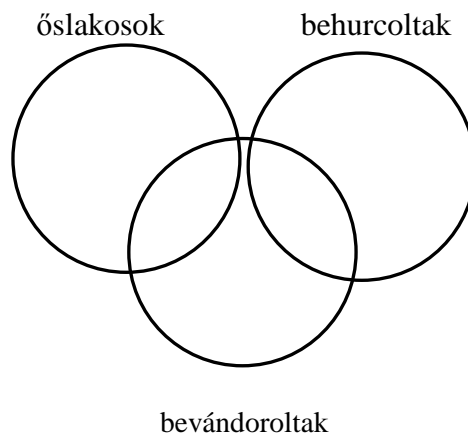


1. Az óidő előtt keletkezett.
2. Óidei röghegység.
3. Ugyanabban a földtörténeti időben keletkezett, mint a Himalája.
4. Területén az újidőben a jégtakaró visszahúzódása után sok ezer tó képződött.
5. Az Eurázsiai-hegységrendszer tagja.
6. Éles, csipkés, gerincek, meredek völgyek jellemzik.
7. Ósmasszívumnak is nevezik.

**7 pont**

**II. Az alábbiakban Amerika területén élő különböző rasszokat, népcsoportokat sorolunk fel. Írd a számokat a megfelelő halmazba!**

1. afroamerikai, 2. angol, 3. spanyol, 4. indián, 5. eszkimó, 6. mulatt, 7. mesztic, 8. francia



**8 pont**

**III. Melyik dél-amerikai országra vonatkoznak az állítások? Egy országhoz több állítás is kapcsolódhat.**

- A. Argentína
- B. Brazília
- C. Chile
- D. Peru
- E. Venezuela

1. Területének észak-déli kiterjedése 4300 km.
2. Az OPEC tagja, kőolajtermelése és exportja világviszonylatban jelentős.
3. A következő Labdarúgó Világbajnokságot ebben az országban rendezik.
4. Feltörekvő országnak is nevezik az utóbbi évek gyors gazdasági növekedése miatt.
5. 2013-ban a világ legnagyobb szarvasmarha-állományával rendelkezett.

**5 pont****IV. Az Amerikai Egyesült Államok melyik városára vonatkoznak az állítások? Egy városhoz csak egy állítás tartozik.**

- A. Detroit
- B. Chicago
- C. New York
- D. Houston
- E. San Francisco

1. A NASA központja.
2. Nagy forgalmú vasúti és légi közlekedési csomópont.
3. Az ENSZ székhelye is.
4. Közeliében található a Google, a Facebook központja.
5. Egykor autógyártásáról volt híres, napjainkban nagy a munkanélküliség, tömegek vándoroltak el a „rozsdadóvezet” városából.

**5 pont****V. Írd az állítások számát a megfelelő helyre!**

Alacsony-Afrika	
Magas-Afrika	

1. Ide tartozik Szahara.
2. Része az Etióp-magasföld.
3. 2000-4000 m magas.
4. Része a Guineai-öböl partvidéke.
5. Ide tartozik Szudán.
6. A Száhel-öv is itt található.

**6 pont****VI. Egészítsd ki a számokkal jelölt helyen a mondatokat!**

Afrikát Európától a (1)..... -szoros, Ázsiától a (2)..... -tenger és a (3).....-csatorna választja el. Afrikát északról a (4).....-tenger, keletről a(z) (5).....-óceán, nyugatról a(z) (6).....-óceán határolja.

**6 pont**

**VII. Melyik mezőgazdasági típus termékei a számokkal jelölt termékek? Írd az állítások számát a megfelelő helyre!**

Ültetvényes gazdálkodás	
Hagyományos gazdálkodás	

1. olajpálma, 2. kakaó, 3. manióka, 4. földimogyoró, 5. köles, 6. gyapot, 7. édesburgonya, 8. kávé

**8 pont**

**VIII. Nevezd meg az alábbi országok fővárosait!**

1. Ausztrália:.....
2. Brazília:.....
3. Kanada:.....
4. India.....
5. Dél-afrikai Köztársaság:.....
6. Argentína:.....

**6 pont**

**IX. Éghajlatok jellemzői. Mely éghajlatra legjellemzőbbek az alábbi állítások? Írd az állítás számához az éghajlat betűjelét!**

- A. Egyenlítői éghajlat
- B. Szavanna éghajlat
- C. Mediterrán éghajlat
- D. Mérsékelt övezeti monszun éghajlat
- E. Egyikre sem igaz az állítás

1. Ilyen éghajlat alakult ki a Kongó-medencében
2. Egy esős és egy száraz évszak jellemzi.
3. Ilyen éghajlata van az Orinoco-medencének.
4. Folyóinak vízjárása egyenletes.
5. A mérsékelt övezet száraz, forró nyarú éghajlattípusa.
6. Ezen az éghajlaton élnek Földünk legnagyobb fenyői.
7. A mérsékelt övezet csapadékos, meleg nyarú éghajlattípusa.
8. Évente kb. 250 mm-nél több, de 1500 mm-nél kevesebb csapadék hull ezen az éghajlaton, két évszak jellemzi.

**8 pont**

**X. Számozással rakd helyes sorrendbe az alábbi országokat, kontinenseket a népsűrűségük alapján! A legnagyobb népsűrűségűt jelöld 1-es számmal! A helyes sorrend 1 pont.**

1.

Japán	USA	Kína	Kanada
-------	-----	------	--------

2.

Afrika	Dél-Amerika	Ázsia	Ausztrália
--------	-------------	-------	------------

**2 pont**

**XI. Oldd meg a keresztrejtvényt! A vastag négyszög betűinek összeolvasásával egy fogalom nevét kapod. Csak a fehér négyszögekbe írd!**

													1.	1. Fehér-Afrika legelterjedtebb vallása.
													2.	2. Ausztráliához legközelebb elhelyezkedő szigetcsoport a Csendes-óceánban.
													3.	3. Kőolajban gazdag afrikai ország.
													4.	4. Ebben a városban van a Tadzs Mahal.
													5.	5. Ezen a folyón épült az asszuáni Nagy-gát.
													6.	6. Amerika felfedezője.
													7.	7. Latin-Amerikában ezt a nyelvet beszélik a legtöbben.
													8.	8. Irak jelentős exportterméke.
													9.	9. Az ausztráliai szubtrópusi erdők jellegzetes, akár 100 m magasra növő fája.
													10.	10. Indiában ezt a nyelvet beszélik a legtöbben.
													11.	11. Jelentős népcsoport Alacsony-Afrikában.
													12.	12. Marokkó világviszonylatban is jelentős ásványkincse.

A fogalom:.....

Mit jelent ez a szó? Röviden magyarázd meg!

Melyik országra jellemző?.....

**15 pont**

**XII. Karikázd be a helyes válasz betűjelét!**

1. Hol jellemző *öntözéses gazdálkodás*? A három válasz közül csak egy helyes!

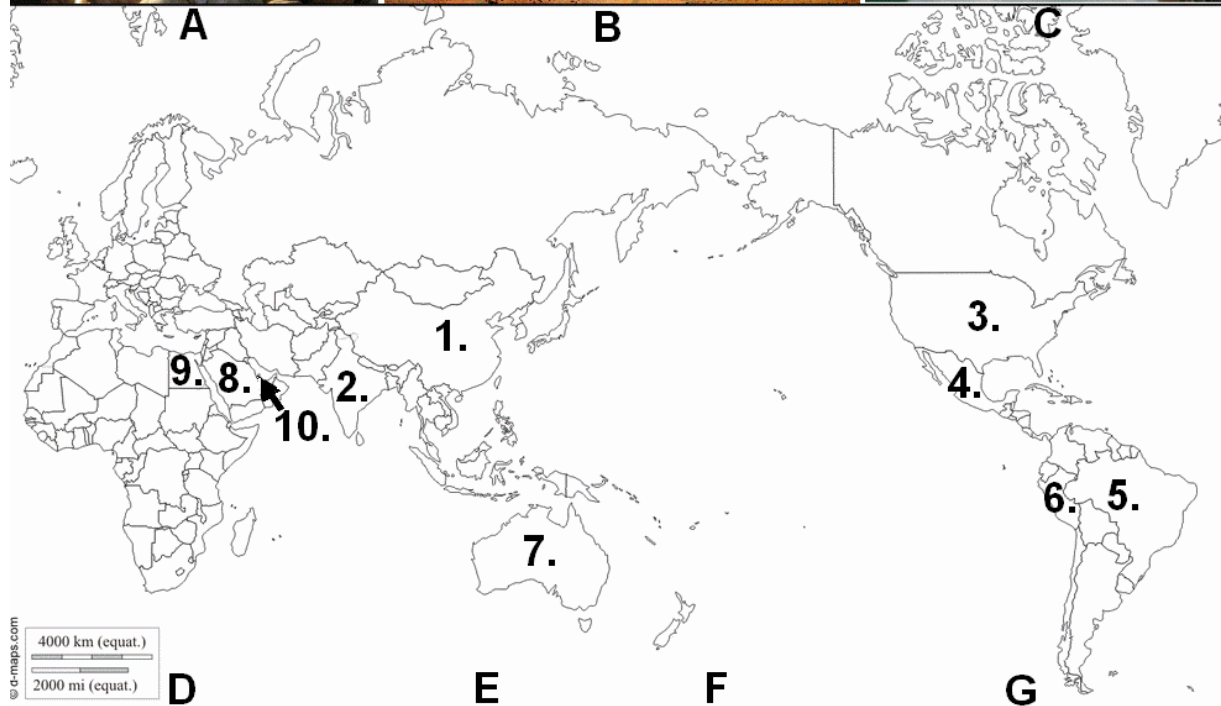
- A. Nílus völgye, Turáni-alföld, Földközi-tenger partvidéke, Kalifornia
- B. Sziklás-hegység, Amazonas-medence, Nílus-völgye
- C. Andok, Parti-síkság, Földközi-tenger partvidéke, Ausztrál-alföld

2. Az alábbiak közül melyek a *vegyipar nyersanyagai* (v. *alapanyagai*)? A három válasz közül csak egy helyes!

- A. barnakőszén, kálisó, foszfát, kőolaj
- B. vasérc, rézérc, bauxit, gyémánt, kőolaj
- C. kálisó, alumínium, foszfát, mangánérc

**2 pont**

**XIII.** Az alábbi képek ismert képződményeket, épületeket, turisztikai látványosságokat mutatnak. Helyüket az alábbi térképen találod számmal jelölve. Vigyázat! Több országot jelöltünk meg a szükségesnél. Ismerd fel és nevezd meg a számokkal jelölt országokat, majd írd a megfelelő ország neve után a látványosság betűjelét! A hibás válaszok pontlevonással járnak!



- |        |                              |
|--------|------------------------------|
| 1..... | 2.....                       |
| 3..... | 4.....                       |
| 5..... | 6.....                       |
| 7..... | 8.....                       |
| 9..... | 10.....(itt található Dubai) |
- 17 pont**

**XIV. Melyik kontinensre jellemzőek az alábbi állítások?**

1. Híres magyar kutatója volt Magyar László és Teleki Sámuel:.....
2. Legmagasabb pontja 8848 m:.....
3. Az AIDS (HIV) által legfertőzöttebb kontinens:.....
4. Itt él természetes környezetében a láma:.....
5. Földünkön csak itt nő természetes környezetében a kaktusz:.....

**5 pont**